



Giochi

Livello C

La corsa dell'Euro

ISTRUZIONI

Giocatori.

Due o più divisi in 2 squadre.

Materiale di gioco.

Un tabellone suddiviso in 2 percorsi da 10 caselle ciascuno.

Un segnaposto per ciascuna squadra.

Inizio e scopo del gioco.

Con una estrazione a sorte si stabilisce l'ordine dei turni di gioco.

















Le 2 squadre allineano i segnaposto sulla casella **PARTENZA**.

Scopo del gioco è compiere l'intero percorso e raggiungere la casella **ARRIVO** prima della squadra avversaria.

Come si gioca.

A turno, ciascuna squadra sposta il proprio segnaposto dalla casella **PARTENZA** alla casella 1 e cerca di rispondere a una domanda, collegata a quella casella, rivolta dall'insegnante. Se la risposta è corretta, la squadra avanza di 1 casella e passa il turno all'altra squadra, se la risposta è sbagliata, la squadra resta ferma sulla medesima casella. Al turno successivo la squadra cercherà di rispondere ad una seconda domanda sul medesimo argomento. Se risponderà correttamente avanzerà di una casella prima di passare il turno, se risponderà in modo scorretto resterà ferma alla medesima casella... è così via fino a quando non risponderà esattamente ad una domanda. L'insegnante, per evitare di rivolgere a squadre diverse la medesima domanda, ha a disposizione 6 domande per ciascuna casella. Una volta esaurite le 6 domande, l'insegnante può riutilizzarle a partire dalla prima.



PARTENZA		1		2		3		4		5		6		7		8	ARRIVO
PARTENZA		1		2		3		4		5		6		7		8	ARRIVO

1



A. Il monumento rappresentato sulla moneta italiana da 1 centesimo, si chiama...

1. Castel dell'Ovo
2. Castel Gandolfo
3. Castel del Monte

B. Il castello si trova:

1. in Puglia
2. in Piemonte
3. in Toscana

C. Il castello è stato fatto costruire dall'imperatore

1. Federico Barbarossa
2. Federico II
3. Carlo V

D. L'imperatore che ha fatto costruire il castello era figlio di una regina

1. Normanna
2. Araba
3. Bizantina

E. La fazione politica che appoggiava l'imperatore era la fazione

1. guelfa
2. papista
3. ghibellina

F. Il castello dà il nome anche a

1. un vino D.O.C.
2. uno stile artistico
3. una scuola poetica

2



A. Il monumento rappresentato sulla moneta italiana da 2 centesimi, si chiama:

1. Mole Antonelliana
2. Mole Botticelliana
3. Tempio Sabauda

B. Il monumento si trova:

1. a Milano
2. a Torino
3. a Venezia

C. Il monumento è stato costruito nel

1. XV secolo
2. XIII secolo
3. XIX secolo

D. Al suo interno oggi è ospitato il

1. museo del cinema
2. museo dell'automobile
3. museo egizio

E. Il monumento prende il nome

1. da un re (Antonello Amedeo II)
2. da un architetto (Alessandro Antonelli)
3. da un santo (Sant'Antonello)

F. In origine il monumento avrebbe dovuto essere


1. una fabbrica
2. una chiesa
3. una sinagoga

3




- A. Il Colosseo è
1. un teatro
 2. un anfiteatro
 3. un tempio
- B. Il Colosseo deve il suo nome
1. all'imperatore Colosso II
 2. alle sue dimensioni "colossali"
 3. ad una statua colossale di Nerone
- C. Il Colosseo ha
1. più di 2.000 anni
 2. meno di 2.000 anni
 3. più di 2.500 anni
- D. Quale altra città italiana possiede un monumento analogo tuttora utilizzato?
1. Milano
 2. Venezia
 3. Verona
- E. Durante i secoli XV e XVI il Colosseo fu utilizzato come
1. cava
 2. chiesa
 3. teatro
- F. Nel Colosseo si tenevano
1. corse di quadrighe
 2. commedie e tragedie
 3. giochi gladiatori

4



- A. Il viso di donna rappresentato sulla moneta da 10 centesimi è tratto da un dipinto di:
1. Botticelli
 2. Michelangelo
 3. Caravaggio
- B. Il dipinto è conosciuto con il titolo di:
1. la Primavera
 2. la Nascita di Venere
 3. il Giudizio di Paride
- C. Il dipinto è conservato:
1. a Parigi, al Louvre
 2. a Roma, ai Musei Vaticani
 3. a Firenze, agli Uffizi
- D. Il dipinto è databile
1. alla seconda metà del XV secolo
 2. alla prima metà del XV secolo
 3. alla seconda metà del XVI secolo
- E. Secondo il mito, Venere era la dea
1. della sapienza
 2. della caccia
 3. dell'amore
- F. Sandro Botticelli fu contemporaneo di
1. Giotto
 2. Leonardo da Vinci
 3. Caravaggio

5



A. La statua rappresentata sulla moneta italiana da 20 centesimi, si intitola

1. "Forme uniche della continuità nello spazio"
2. "Sviluppo di una bottiglia nello spazio"
3. "Dinamismo di un cavallo in corsa + case"

B. La statua è opera di

1. Umberto Boccioni
2. Amedeo Modigliani
3. Giorgio De Chirico

C. La statua è espressione dell'arte

1. Impressionista
2. Espressionista
3. Futurista

D. La statua è conservato a

1. Roma
2. Milano
3. Venezia

E. Oltre che come scultore, Boccioni è noto come

1. pittore
2. poeta
3. musicista

F. Il futurismo è un movimento artistico della

1. seconda metà del XX secolo
2. prima metà del XX secolo
3. seconda metà del XVIII secolo

6



A. Il monumento raffigurato sulla moneta italiana da 50 centesimi rappresenta

1. l'imperatore Augusto
2. l'imperatore Marco Aurelio
3. l'imperatore Costantino

B. Il monumento si trova

1. a Roma
2. a Napoli
3. a Venezia

C. Il monumento è

1. in marmo
2. in legno
3. in bronzo

D. I monumenti che rappresentano un uomo a cavallo si dicono monumenti

1. cavallereschi
2. equestri
3. equini


E. La piazza del Campidoglio, al centro della quale sorge il monumento, fu progettata da

1. Michelangelo Buonarroti
2. Leon Battista Alberti
3. Lorenzo Bernini

F. Il Campidoglio è la sede del

1. governo italiano
2. parlamento italiano
3. comune di Roma

7



- A. L'immagine rappresentata sulla moneta italiana da 1 Euro è opera di
1. Michelangelo Buonarroti
 2. Caravaggio
 3. Leonardo da Vinci
- B. L'immagine rappresentata sulla moneta italiana da 1 Euro è conservata a
1. Roma
 2. Firenze
 3. Venezia
- C. Nel disegno l'uomo è perfettamente inserito in
1. un rettangolo e un cerchio
 2. un quadrato e un cerchio
 3. un quadrato e una ellisse
- D. Il disegno è conosciuto con il nome di
1. Uomo Vitruviano
 2. Uomo Leonardesco
 3. Uomo Vinciano
- E. Leonardo è nato in Toscana e morto
1. in Spagna
 2. in Francia
 3. in Germania
- F. Leonardo aveva l'abitudine di scrivere
1. in greco antico
 2. dal basso in alto
 3. da destra a sinistra

8



- A. L'uomo rappresentato sulla moneta da 2 Euro è
1. Giulio Cesare
 2. Francesco Petrarca
 3. Dante Alighieri
- B. L'immagine rappresentata sulla moneta da 2 Euro è tratta da un dipinto di
1. Leonardo da Vinci
 2. Raffaello Sanzio
 3. Tiziano
- C. L'uomo rappresentato sulla moneta da 2 Euro porta sul capo una corona di foglie di
1. alloro
 2. ulivo
 3. menta
- D. Dante Alighieri è nato a Firenze e morto a
1. Napoli
 2. Venezia
 3. Ravenna
- E. Oltre che della Divina Commedia, Dante Alighieri è autore
1. del "Decamerone"
 2. della "Vita Nova"
 3. del "Principe"
- F. La donna amata da Dante si chiamava
1. Beatrice
 2. Berenice
 3. Laura

1



Soluzioni

A3 ; B1 ; C2 ; D1 ; E3 ; F1

2



Soluzioni

A1 ; B2 ; C3 ; D1 ; E2 ; F3


3



Soluzioni

A2 ; B3 ; C2 ; D3 ; E1 ; F3


4



Soluzioni

A1 ; B2 ; C3 ; D1 ; E3 ; F2

5



Soluzioni

A1 ; B1 ; C3 ; D2 ; E1 ; F2

6



Soluzioni

A2 ; B1 ; C3 ; D2 ; E1 ; F3

7



Soluzioni

A3 ; B3 ; C2 , D1 ; E2 ; F3

8



Soluzioni

A3 ; B2 ; C1 ; D3 ; E2 ; F1